

Time: 40 Minutes	Paper Math 3	Total Marks: 25
3rd Month, 2nd Week, 6th Day Syllabus: Revision Test.		

Q.1. Write three equivalent fractions of each of the following. (10)



درج ذیل کسور میں ہر کسر کی تین مساوی کسور لکھیں۔

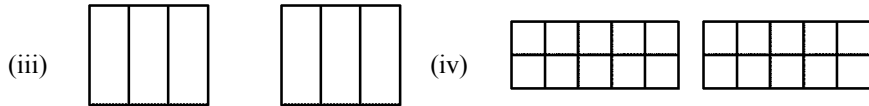
(i) $\frac{5}{6}$ (ii) $\frac{2}{3}$ (iii) $\frac{1}{4}$ (iv) $\frac{5}{8}$

Q.2. Colour the following figures according to the fractions and then use "<" or ">". (10)

دی گئی اشکال میں کسر کے مطابق رنگ کریں اور "<" یا ">" کی علامت استعمال کریں۔



$\frac{5}{8}$  $\frac{7}{8}$ $\frac{3}{4}$  $\frac{2}{4}$




$\frac{1}{3}$  $\frac{2}{3}$ $\frac{5}{8}$  $\frac{3}{8}$

Q.3. Use "<", ">" and "=" in the following fraction. (5)

درج ذیل کسور میں "<", ">" اور "=" کی علامت لگائیں۔

(i) $\frac{3}{9}$  $\frac{5}{9}$ (ii) $\frac{3}{5}$  $\frac{2}{5}$

(iii) $\frac{4}{7}$  $\frac{4}{7}$ (iv) $\frac{2}{3}$  $\frac{1}{3}$

(v) $\frac{4}{9}$  $\frac{4}{9}$

Time: 40 Minutes	Paper Math 3	Total Marks: 25
3rd Month, 2nd Week, 6th Day Syllabus: Revision Test.		

Q.1. Write three equivalent fractions of each of the following. (10)

درج ذیل کسور میں ہر کسر کی تین مساوی کسور لکھیں۔

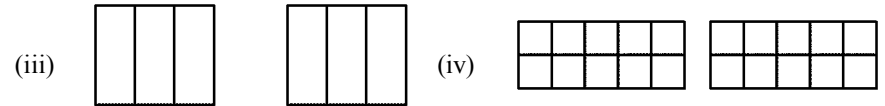
(i) $\frac{5}{6}$ (ii) $\frac{2}{3}$ (iii) $\frac{1}{4}$ (iv) $\frac{5}{8}$

Q.2. Colour the following figures according to the fractions and then use "<" or ">". (10)

دی گئی اشکال میں کسر کے مطابق رنگ کریں اور "<" یا ">" کی علامت استعمال کریں۔



$\frac{5}{8}$  $\frac{7}{8}$ $\frac{3}{4}$  $\frac{2}{4}$




$\frac{1}{3}$  $\frac{2}{3}$ $\frac{5}{8}$  $\frac{3}{8}$

Q. Use "<", ">" and "=" in the following fraction. (5)

درج ذیل کسور میں "<", ">" اور "=" کی علامت لگائیں۔

(i) $\frac{3}{9}$  $\frac{5}{9}$ (ii) $\frac{3}{5}$  $\frac{2}{5}$

(iii) $\frac{4}{7}$  $\frac{4}{7}$ (iv) $\frac{2}{3}$  $\frac{1}{3}$

(v) $\frac{4}{9}$  $\frac{4}{9}$